

测评编号

姓名

班级

学校

题
答
要
不
内
线
封
弥

太原市 2017 年初中毕业班综合测试(二)

文科综合

(考试时间:下午 3:00—5:30)

历史

注意事项:

1. 文科综合由历史和思想品德两部分组成,满分 150 分,考试时间 150 分钟。其中历史部分分第 I 卷和第 II 卷。全卷共 8 页,满分 75 分,考试时间 70 分钟。
2. 答卷前,考生务必将自己的姓名、准考证号填写在本试卷相应的位置。
3. 答案全部在答题卡上完成,答在本试卷上无效。
4. 考试结束后,将本试卷和答题卡一并交回。

第 I 卷 选择题 (共 30 分)

一、选择题(本题共 15 小题,每小题 2 分,共 30 分。在每小题的四个选项中,只有一项最符合题意,请用铅笔涂黑答题卡上对应题目的答案标号)

1. “三千年文明看陕西,五千年文明看山西”,下列历史史实与陕晋两省关系对应正确的是
A. 燕赵故地——陕西;长平之战——山西
B. 东汉都城——陕西;北魏平城——山西
C. 隋朝定都——陕西;平型关大捷——山西
D. 唐高祖起兵——陕西;狄仁杰故里——山西
2. 本着“治世不一道,便国不法古”的思想理念,战国时期的商鞅在秦孝公的支持下进行了大刀阔斧的改革,终使秦国成为战国后期最富强的国家。商鞅变法成功的原因有
①商鞅立木取信于民 ②顺应历史发展趋势 ③得到统治者支持 ④结束战乱纷争局面
A. ①② B. ①②③
C. ③④ D. ②③④

3. 鲁迅说：“中国自古以来，就有埋头苦干的人，就有拼命硬干的人，就有为民请命的人，就有舍身求法的人。他们是中国的脊梁。”下列知识卡片中历史人物与其名言或后人对他们的评价，对应不符的是

人物：司马迁 名言：人固有一死，或重于泰山，或轻于鸿毛。	人物：屈原 名言：长太息以掩涕兮，哀民生之多艰！	人物：鉴真 评价：传法为重，舍身为经；六渡出海，终抵东瀛。	人物：戚继光 评价：开辟荆榛逐荷夷，十年始克复先基。
A	B	C	D

4. 我国是多民族的国家，历史上汉族与少数民族之间时战时和，但和平始终是民族关系的主流，各民族共同创造了祖国的历史。下列相关史实与结论的对应关系，不正确的是

选项	史实	结论
A	西汉政府派遣张骞出使西域	西域地区正式归中央政府管辖
B	北宋与辽经过战争后，签订澶渊之盟	辽宋之间此后保持了较长时间的和平
C	元朝政府设宣政院，管辖西藏的军民各项事务，屯驻军队	标志着西藏正式成为我国领土不可分割的一部分
D	清朝顺治和康熙时期分别册封五世达赖和五世班禅	此后，历代达赖和班禅都必须经过中央政府册封

5. 干支纪年是我国古代发明的一种纪年方法，如：“戊戌、己亥、庚子、辛丑、壬寅、癸卯”就是 19 世纪末 20 世纪初几个连续的年份，李希圣著《庚子国难记》写的就是上述庚子年发生的事。据此推断，这里的“庚子国难”具体是指
- A. 甲午中日战争 B. 义和团运动被镇压
C. 八国联军侵华 D. “戊戌六君子”被杀
6. 一位美国记者赞叹道：“每一场革命都有它自身的传奇，毛泽东率领数万工农红军所完成的战略转移，就是中国革命史上的伟大传奇。”这里的“伟大传奇”指的是
- A. 五四运动 B. 北伐战争
C. 井冈山会师 D. 红军长征
7. “共产党从东北地区突然发起猛攻，攻克了华北各大城市，到 1949 年 4 月时，他们已在横渡长江……”。材料中的“从东北发起猛攻”和“横渡长江”指的重大军事行动分别是
- A. 辽沈战役和平津战役 B. 辽沈战役和渡江战役
C. 淮海战役和渡江战役 D. 平津战役和渡江战役

8. 历史遗址和邮票等都是历史的重要呈现方式,从中可以唤起我们对许多重大历史事件的回顾和纪念。下列对这些事件历史意义的表述,不正确的是



图一 中共一大会址



图二 中共七大会场



图三 中共八大纪念邮票



图四 中共十三大纪念邮票

- A. 中共一大,标志着伟大的中国共产党的成立
- B. 中共七大,为夺取抗战胜利和实现中国的光明前途准备了条件
- C. 中共八大,成为探索建设社会主义道路的良好开端
- D. 中共十三大,中国历史进入社会主义现代化建设的新时期
9. 太钢是以生产板材为主的特大型钢铁联合企业和中国大陆最大的不锈钢生产企业。1993年后,大批国有企业积极进行公司制、股份制改革。1996年1月,太原钢铁公司改制为国有独资公司—太原钢铁(集团)有限公司,综合实力跃居国内钢铁行业前列。从中反映出我国经济体制改革的目标是
- A. 建立社会主义计划经济体制
- B. 建立社会主义市场经济体制
- C. 加强国家对经济的干预和指导
- D. 实行“自由放任”的经济政策
10. 人类在早期区域文明诞生过程中创造了诸多成就,如古代埃及的象形文字、孟斐斯城;古代中国的甲骨文、二里头宫殿遗址;古代希腊的字母文字、雅典卫城等。据此判断,人类走向文明时代的显著特征是
- ①文字的出现 ②国王的产生 ③城市的兴起 ④法律的制定
- A. ①② B. ②④ C. ①③ D. ③④
11. 有学者认为,明末以来,美洲的豆类、番茄、玉米、甘薯、辣椒、花生等农作物向中国、东南亚等广大亚洲地区传播,以其丰厚的产出和充足的营养支撑着众多的人口,打破了传统的粮食结构,他们把这些现象称为“餐桌革命”。“餐桌革命”出现的主要原因是
- A. 新航路的开辟 B. 工业革命的开展
- C. 商业革命的影响 D. 亚洲人口的膨胀

12. 下列历史人物中, 领导革命武装反抗西班牙殖民压迫的民族解放运动的领导人是



A. 华盛顿



B. 玻利瓦尔



C. 章西女王



D. 尼赫鲁

13. 对不同历史事件进行比较, 是历史学习的一种重要方式。下列对辛亥革命和法国大革命相同点的比较, 正确的有

- ①都是资产阶级性质的革命 ②都推翻了本国的封建专制统治 ③都发挥了人民群众的重要作用 ④都建立了资产阶级共和国

A. ①②③

B. ①②④

C. ②③④

D. ①③④

14. 新的钢铁材料、新的内燃机……带来了铁路、轮船等交通工具的革命性变革, 使得远程运输更为广泛、安全、便捷; 电报、电话、无线电通信等电讯手段的出现及其大发展, 加速了商业信息的传播与交流。这些现象描述的是

- A. 工业革命的重大发明
B. 第二次工业革命的原因
C. 科学家的科学精神
D. 第二次工业革命的影响

15. 历史解释是指以史料为依据, 以历史理解为基础, 对历史事物进行理性分析和客观评判的态度与能力。截止 2015 年 4 月 15 日, 中国倡议的亚洲基础设施投资银行(亚投行)意向创始成员国增至 57 个, 涵盖了除美国之外的主要西方国家以及除日本之外的主要东方国家。根据你的理解, 分析美日没有加入亚投行的主要原因有

- ①中国综合国力的不断增强成为促进世界多极化的重要力量
②美日认为中国主导亚投行挑战其在亚太地区的领导力
③亚投行的成立冲击了传统西方主导的全球金融秩序
④亚投行的成立说明中国的实力已经超过美国

A. ②③④

B. ①③④

C. ①②③

D. ①②④

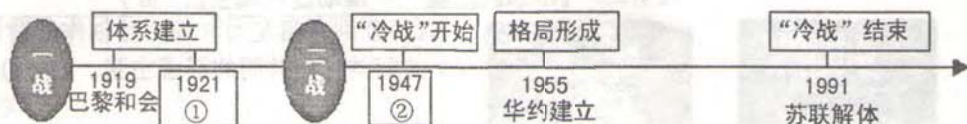


第Ⅱ卷 非选择题 (共 45 分)

二、简答题(本大题共 10 分)

16. 世界格局是指国际舞台上的主要政治力量在一定历史时期内相互制约所形成的一种稳定的结构状态。结合提示信息,完成下面各题。

(1) 根据时间轴上的提示信息,写出与①②序号对应的历史事件。(2 分)



① _____ ② _____

(2) 下面两幅图中军事集团的形成,分别对上述不同时期的国际局势产生了什么影响?(2 分)



图一 三国同盟和三国协约



图二 北约组织和华约组织

(3) 简述中国在两次世界大战后形成的国际格局中的地位。(2 分)

(4) 在 1955~1991 年间的世界格局下,分别概述下列时间段内中国和西欧各自的经济特点。(4 分)

20 世纪 50~70 年代:

20 世纪 70~90 年代初:

三、材料解析题(本大题共 2 小题,每小题 10 分,共 20 分)

17. 国运兴衰,系于教育。阅读材料,结合所学知识,回答下列问题。(10 分)

材料一 唐人杨绾云:“近炆帝始置进士之科,当时优试策而已。”科举由应试人于一定时期,投牒自进,按科应试,共同竞争,试后有黜落,中试者举用之,然后为真正考试。

唐太宗君臣认为“致安之本，惟在得人”，只有“任官惟贤才”“量才授职，务省官员”，才能加强封建政权的基础，达到长治久安。故唐朝继承并完善了隋朝的科举制，并使这一制度逐渐完备起来。

——邓嗣禹《中国科举制度起源考》

材料二 11 世纪，主教们为了教育其管辖区的教士，创办了教会学校。一个世纪以后，以教会学校为基础的早期大学逐渐形成。这些大学是具有合法身份的自治团体，这是它们与众不同的特征。此外，它们不象教会学校那样只有一个文科，另外还有教会法规、民事法律、医学和神学系。文科的全部课程包括三个低级学科（拉丁文法、逻辑和修辞）和四个高级学科（算术、几何、音乐和天文）。12 世纪，在博洛尼亚、巴黎和牛津出现了第一批大学。随后一个世纪中，在帕多瓦、那不勒斯和萨拉曼卡创办了一些大学；14 世纪，在中欧的布拉格、克拉科夫和维也纳也建立了一些大学。

——摘编自《全球通史·1500 年前的世界》

材料三 拿破仑通过《教育基本法》等法令实施教育改革，加强国家对教育的控制；同时改建与发展为资产阶级政治经济服务的初等学校、中等学校、专科学校和军事学校等。

材料四 1878 年，中国首次派遣 120 名幼童赴美留学，开启了中国近代留学教育之先河，之后 1877 年、1878 年、1885 年又三次派遣留学生赴英、法、德等欧洲各国学习造船、驾驶、兵技等西学。1896 年后，留日学生人数直线上升，1899 年是 200 人左右，1903 年达 1300 名，至 1905 年，人数增至 8000 人。在学习内容上，1904 年，中国留日学生 1300 人中，学习文科的达 1100 人。

——摘编自《我国近代留美学生群体研究》

- (1) 根据材料一，指出科举制的特点，并简述科举制的创立对推动社会进步所起的积极作用。（2 分）
- (2) 根据材料二，概括 11～14 世纪欧洲大学教育的特点。（2 分）
- (3) 根据材料三，列举拿破仑教育改革具体举措。（2 分）
- (4) 材料四中，19 世纪后期～20 世纪初中国留学教育发生了怎样的变化？并分析其原因。（3 分）
- (5) 请你从自身受教育的角度出发，对义务教育阶段的学校教育提一点合理化建议。（1 分）

18. 农业是古今中外不同国家经济发展的重要组成部分。阅读材料, 结合所学知识, 回答下列问题。(10分)

材料一 宋代为提高粮食产量, 政府从越南引进的优良品种占城稻迅速在江南地区得到推广, 太湖流域的苏州、湖州, 成为全国重要的产粮区, 民间流传着“苏湖熟, 天下足”的谚语。

清初的统治者重视农业生产, 大力推行垦荒政策, 大片荒地得到开垦; 并推广玉米、甘薯等高产作物, 粮食产量大幅度提高, 棉花、甘蔗、烟草、茶叶、药材, 以及花卉、水果等作物的种植面积扩大。

——摘编自百度百科

材料二 1868年, 新上台的明治政府进行了一系列“富国强兵”的维新改革。其中在农业方面推行“劝农”政策, 引进西方先进技术、农牧业品种和经营管理制度; 废除封建制度对农民的束缚, 减轻农民的税收负担, 以农业发展来支持工业化; 以缓解贫困为中心的农村发展政策, 保持农业增长, 控制城乡差距。

材料三 1933年, (苏联) 宣布实行农产品义务交售制。……提高工业品的出销售价格, 压低农产品的收购价格……以加快(工业化的) 资金积累。

——齐世荣《世界史·现代史编》

1953年, 中国实行以固定价格强制收购粮食的制度……为拟定的工业化规划提供了资源……低价的收购制度提供了把物资部分无偿地转出农业部门的手段。

——费正清《剑桥中华人民共和国史》

材料四



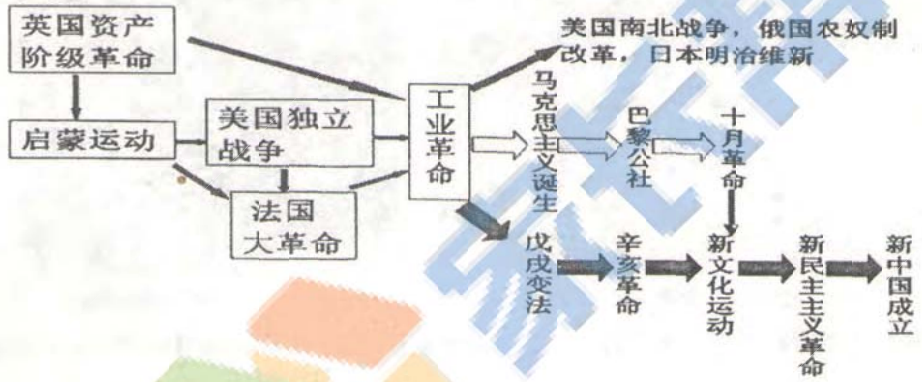


20世纪80年代初中国农业发展数据统计

年度	粮食产量 (万吨)	农业劳动力 (万人)	粮食播种面积 (万公顷)	化肥施用量 (万吨)
1980	31822	29181	11723.4	1269000
1982	35343	30917	11346.3	1513000
1984	40712	30927	11288.4	1773100

- (1) 根据材料一, 归纳宋、清时期政府促进农业发展的共同举措, 并说明农业对社会发展所起的积极作用。(2分)
- (2) 材料二中, 日本明治政府是如何促进农业发展的?(2分)
- (3) 根据材料三, 简述中、苏两国在农业方面的举措所产生的共同影响。(2分)
- (4) 材料四说明20世纪80年代初我国农业发展总体呈现什么趋势? 并分析出现这一趋势的原因。(2分)
- (5) 综上所述, 概括影响农业发展的共同因素。(2分)

四、探究题(本大题共15分)

19. 人类文明的进程总是伴随着一次次思想的智慧在前行。张老师据此设计了如下探究学习方案, 请你根据要求完成学习任务。

<p>任务一 【先哲的智慧——感悟传统文化】(4分)</p>	
	<p>(1)请分别说明孔子和韩非的思想主张被后世封建统治者所实践的具体事例。他们的思想主张与今天社会主义核心价值观相吻合的关键词分别是什么?(4分)</p>
<p>任务二 【思想的力量——推动近代民主】(7分)</p>	
	<p>(2)分别介绍左边两部作品创作的背景,并归纳它们共同的思想主张。(3分)</p>
<p>(3)根据下面思维导图,分别阐述工业革命后,两种民主思想对世界和对中国产生的影响。(4分)</p> 	
<p>任务三 【文明的传承——促进社会进步】(4分)</p>	
 <p>至2015年12月6日,中国已在134个国家和地区建立了500多所孔子学院和1000多个孔子课堂,学员总数达190万人。</p>	 <p>2017年3月3日和5日,第十二届全国政协委员会第五次会议和第十二届全国人大第五次会议分别在北京召开。</p>
<p>(4)孔子学院在世界各地的设立有何意义?(2分)</p>	<p>(5)假如你是记者,要向同学们报道最近召开的“两会”盛况,你会从哪些方面进行报道。(2分)</p>

太原市 2017 年初中毕业班综合测试(二)

文科综合

思想品德

注意事项:

1. 文科综合由历史和思想品德两部分组成, 满分 150 分, 考试时间 150 分钟。其中思想品德部分采用开卷考试, 分第I卷和第II卷两部分。全卷共 8 页, 满分 75 分, 考试时间 70 分钟。
2. 答卷前, 考生务必将自己的姓名、准考证号填写在本试卷相应的位置。
3. 答案全部在答题卡上完成, 答在本试卷上无效。
4. 考试结束后, 将本试卷和答题卡一并交回。

第 I 卷 (选择题, 共 36 分)

一、选择题(在每小题的四个选项中, 只有一项最符合题意, 请选出并在答题卡上将该项涂黑。

本大题有 12 小题, 每小题 3 分, 共 36 分)

1. 下列关于党的十八届六中全会精神表述正确的是

- ①党内民主是党的生命, 是党内政治生活积极健康的重要基础 ②全党必须聚精会神抓好发展这个党执政兴国的第一要务 ③新形势下加强和规范党内政治生活必须以党章为根本遵循 ④决定中国共产党第十九次全国代表大会于 2017 年下半年召开 ⑤要牢固树立政治意识、大局意识、核心意识、看齐意识

- A. ①②③④⑤ B. ①②③④ C. ②③⑤ D. ①④⑤

2. 关于人大和政协, 下列说法正确的是

- ①全国人民代表大会是我国的最高国家权力机关, 它的常设机关是全国人民代表大会常务委员会。中国人民政治协商会议是中国人民爱国统一战线的组织, 是中国共产党领导的多党合作和政治协商的重要机构 ②政协是中国共产党领导下, 由中国共产党、8 个民主党派、无党派民主人士、人民团体、各少数民族和各界的代表, 台湾同胞、港澳同胞和归国侨胞的代表, 以及特别邀请的人士组成 ③通常全国政协代表可以出席全国人民代表大会 ④政协的主要职能是政治协商、民主监督、参政议政

- A. ①②③ B. ①②④ C. ②③④ D. ①③④

3. 2017 年 3 月 15 日上午, 十二届全国人大五次会议表决通过了民法总则(草案), 该法自今年 10 月 1 日起正式实施。下列与之相关的表述正确的是

- ①这部法律的通过需要全国人民代表大会以全体代表的过半数通过 ②全国人大有任免权、监督权、立法权及重大事项决定权等多项权力。这部法律的审议通过就是全国人大在行使重大事项决定权 ③这部法律是我国民事权利的宣言书, 它的颁行开启了民法典编纂的进程 ④这部法律规定不满十周岁的未成年人为无民事行为能力人, 由其法定代理人实施民事法律行为

- A. ①②③ B. ①②④ C. ①③ D. ②④

4. 下列对知识的总结有误的一项是

A. { 民族精神的核心:爱国主义
时代精神的核心:改革创新

B. 我国的五个省级民族自治区

{ 内蒙古自治区
新疆维吾尔自治区
广西壮族自治区
宁夏回族自治区
西藏自治区

C.

法律的三个显著特征	由国家制定或认可,靠国家强制力保证实施,对全体社会成员具有普遍约束力
促进民族团结进步的“三个尊重”	尊重各民族宗教信仰,尊重各民族的风俗习惯,尊重各民族的语言文字
我国人口现状的三个基本特点	人口基数大,新增人口多,人口素质偏低
我国的三项基本政治制度	人民代表大会制度,基层群众自治制度,民族区域自治制度
犯罪的三个基本特征	严重社会危害性,刑事违法性,刑罚当罚性

D. { 党和国家生存发展的政治基石——四项基本原则
党和国家实现科学发展的政治保证——党的基本路线

5. 以下对法律知识的归纳,完全正确的一组是

①	对违法犯罪的未成年人,实行教育、感化、挽救的方针,坚持教育为主、惩罚为辅的原则,是我国预防未成年人犯罪法规定的
②	未成年人的父母或者其他监护人和学校应当教育未成年人不得有旷课、夜不归宿;打架斗殴、辱骂他人;强行向他人索要财物;偷窃、故意毁坏财物;参与赌博或者变相赌博;观看、收听色情、淫秽的音像制品、读物等不良行为,是我国未成年人保护法规定的
③	公民的基本权利和义务,是我国民法总则规定的
④	消费者享有对商品和服务以及保护消费者权益工作进行监督的权利,是我国消费者权益保护法规定的
⑤	公民应当遵守环境保护法律法规,配合实施环境保护措施,按照规定对生活废弃物进行分类放置,减少日常生活对环境造成的损害,是我国环境保护法规定的
⑥	继承人应当本着互谅互让、和睦团结的精神,协商处理继承问题。遗产分割的时间、办法和份额,由继承人协商确定,是我国继承法规定的
⑦	刑罚的种类分主刑和附加刑,是我国刑法规定的

A. ②④⑤⑥⑦

B. ①②③④⑤

C. ①②⑥⑦

D. ④⑤⑥⑦

6. 2017年3月5日上午,国务院总理李克强在十二届全国人大五次会议上作政府工作报告,报告回顾了2016年国民经济发展主要情况,并提出了2017年的主要目标。其中的一些数字和提法颇为引人关注。下面对这些数字、提法解读不正确的是

A. “贫困地区和贫困人口是全面建成小康社会最大的短板,要深入实施精准扶贫、精准脱贫,创新扶贫协作机制,支持社会力量参与扶贫。”

——这彰显了“共同富裕”是中国特色社会主义的根本原则

B. “2017年城镇新增就业1100万人以上,城镇登记失业率4.5%以内,完成棚户区住房改造600万套。”

——这表明政府把解决民生问题作为工作中心

C. “坚决打好蓝天保卫战。今年二氧化硫、氮氧化物排放量要分别下降3%,重点地区细颗粒物(PM_{2.5})浓度明显下降。”

——这充分体现了国家坚持环境保护的基本国策

D. “国内有效发明专利拥有量突破100万件,技术交易额超过1万亿元;科技进步贡献率上升到56.2%,创新对发展的支撑作用明显增强。”

——这主要得益于我国坚定不移的实施创新驱动发展战略

7. 下列总结正确的是

A. 罚金和罚款的区别之一是罚金是一种刑罚,罚款是一种行政处罚

B. 根据立法法和有关法律的规定,制定法律的基本程序,包括法律案的提出、审议、表决

C. 法律由国家制定或认可,这里的“国家”是指全国人大

D. 法律靠国家强制力保证实施,这里的“国家强制力”是指军队

8. 根据下列漫画所反映的寓意进行分组,正确的是



A. ①④

B. ①②

C. ③④

D. ②③

9. 有人落水,常规的思维模式是“救人离水”,而司马光面对紧急险情,运用了逆向思维,果断地用石头把缸砸破,“让水离人”,救了小伙伴性命。人们在生活中习惯于沿着事物发展的正方向去思考问题并寻求解决办法,其实有时候运用逆向思维,敢于“反其道而思之”,反而会取得意想不到的效果。下面的故事中不符合这一思维方式的是

A. 面对不断扩宽马路仍不能解决道路拥堵的问题,荷兰政府毅然扩大行人和非机动车道,把汽车“挤”出了城市

B. 孩子不愿意做爸爸留的课外作业,于是爸爸灵机一动说:“儿子,我来做作业,你来检查如何?”孩子高兴地答应了,并且把爸爸的“作业”认真地检查了一遍,还列出算式给爸爸讲解了一遍。只是他可能不明白为什么爸爸所有作业都做错了

C. 一个自助餐厅因顾客浪费严重而效益不好,无奈之下餐厅规定:凡是浪费食物者罚款十元!但结果却是生意一落千丈!后经人提醒,将售价提高十元,同时将罚款的规定改为:凡没有浪费食物者奖励十元!结果生意火爆且基本杜绝了浪费行为

D. 加利福尼亚州的一个城市被森林大火所困扰, 他们想清除城镇周围山坡上的灌木丛, 准备用螺旋桨飞机来操作, 但是这样做反而极易引起火花, 导致火灾发生。后来政府当局租借了成群的山羊, 把它们放在山坡上放牧。山羊吃掉了大量的草木, 控制了灌木丛的生长, 并且达到了靠其它方法难以到达的陡峭坡段, 灌木丛火灾因此大大减少

10. 下列对法律知识的理解正确的是

- A. 剥夺政治权利是对犯罪分子适用的附加刑的一种。剥夺政治权利包括剥夺: 选举权和被选举权; 言论、出版、集会、结社、游行、示威自由的权利; 担任国家机关职务的权利; 担任国有公司、企业、事业单位和人民团体领导职务的权利
- B. 使用他人的姓名, 冒充他人进行活动, 以达到某种目的属于盗用他人姓名的行为, 侵犯他人的姓名权
- C. 未成年人的严重不良行为不是违法行为
- D. 消费者享有的“安全权”是指生命健康权

11. 某中学积极参加基础教育教学改革, 每月都会开展有主题的学生活动, 以提高学生核心素养。该校组织的以下活动中有利于培养学生“国家认同”的是

- A. 4 月清明节到来之际, 组织开展主题为“传承英烈精神, 立志报效祖国”的“网上祭英烈”活动
- B. 5 月组织参观省科技馆的“宇宙与生命”“机器与动力”“走向未来”等展区, 通过参观和动手操作, 体验科技魅力
- C. 9 月组织开展“小鬼当家”活动, 鼓励同学们学会自主管理、自主学习和自主生活
- D. 10 月学校组织开展“每年攀登一座高山”的励志登山活动

12. 以下图片与香港特别行政区有关的是



①



②



③ 日月潭



④ 鼓浪屿



⑤ 维多利亚港



⑥ 大三巴牌坊

A. ①③⑤

B. ②⑤⑥

C. ①⑤

D. ②⑥

第Ⅱ卷(非选择题,共 39 分)

二、简答题(本大题有 5 小题,共 20 分)

13.(1)填空(每空 1 分,共 7 分)

- ①十八大后,我国提出的依法治国新要求是_____。
- ②山西省人民代表大会的代表是通过_____选举产生。
- ③亲社会行为又叫利社会行为,是指人们在社会交往中表现出来的那些有利于社会和他人的行为。比如_____。(举一例即可)
- ④要分析说明“如何看待中学生追星的行为”,主体用_____思维。
- ⑤公有制经济包括_____。
- ⑥小孙是圆通快递的一名“快递小哥”,他每月获得数千元的工资收入属于按_____要素参与分配。在社区组织的募捐活动中,他将其中的 200 元捐了出去,这是行使了对自己财产的_____权。

(2)随着国家体育总局将山地户外运动列为第 100 项体育运动,户外运动越来越受到人们的欢迎,野外生存是户外运动中不可或缺的一个分支和支柱项目,格外受到人们的青睐。以下是某校同学参加野外生存活动的片断。

小东穿着新买的旅游鞋参加活动,兴致勃勃。来到野外,看到蜜蜂采蜜,小丽一时开心,去抓蜜蜂,不小心被蜜蜂蛰伤,她立刻用手不停地拍打、挠痒。小康发现一种奇妙的果实,似乎记得在书上看过,是一种可食食物,便随手擦了擦,吃了起来。走到一半路程,忽然天气阴沉下来,耳边还想起了轰隆隆的雷声,小倩建议大家到树下避雨。晚上开始扎营时,小亮将帐篷扎在悬崖下面,并把帐篷门朝向顺风方向。

他们在活动中有哪些不可取之处,请你指出并改正。(4 分)

14. 优秀的建筑是会说话的艺术。在诗人眼里,建筑是写在大地上的诗篇;在音乐家眼里,建筑是凝固的乐章;在建筑师眼里,建筑是以钢铁之笔、以空间为画台的艺术。

(1)请你写出下面四幅图中建筑物的名称及所属的国家(注意图片所对应的序号)。(2 分)



①

① _____



②

② _____



③

③ _____



④

④ _____

(2)在我们山西省,有一处古代建筑,它是中国现存最早的皇家园林,是集中国古代祭祀建筑、园林、雕塑、壁画、碑刻艺术为一体的唯一而珍贵的历史文化遗产。请写出它的名称。(1分)

15.当代风采人物评选活动产生三名候选人。大李,笃学敏思,为破解生命科学之谜作出重大贡献,率领团队一举跻身国际学术最前沿。老王,练就一手绝活,变普通技术为完美艺术,走出一条从职高生到焊接大师的“大国工匠”之路。小刘,酷爱摄影,跋山涉水捕捉世间美景,他的博客赢得网友一片赞叹:“你带我们品味大千世界”“你帮我们留住美丽乡愁”。

如果让你投票,你会选谁?请说明理由。(2分)

16.近期,反腐题材电视剧《人民的名义》走红,引发全民追剧热潮。该剧讲述了检察官身份的主角与贪腐分子斗智斗勇的故事,用曲折精彩的情节反映出中国共产党人反腐败的坚强决心和严惩力度。在该剧还未完结之时,全集资源竟先在网络上流传开来。记者调查发现,“泄露版”影片几乎都储存在百度网盘中,通过微信、微博、淘宝等渠道流传。买家付几元钱后,就可以买到网盘链接和提取码,随时可以看到全部资源以及更新剧集。

这则材料说明了什么?(2分)

17. “考生心理服务月”公益辅导活动来了

中考、高考是同学们人生中面临的一次重要挑战,为了帮助即将走向中高考的同学更好的面对这一挑战,2017年5~6月,我市教研科研中心举办“考生心理服务月”公益辅导活动,为我市中高考考生和学生家长提供有针对性的辅导和帮助。

你希望在这次公益辅导活动中得到哪些有针对性的辅导和帮助?(2分)

三、分析说明题(注意:下面有两道题,请你任选其中一道,在答题卡上作答,共7分)

18.选作题1:

近日,四川传媒学院一名学生在保卫处认领了自己丢失的iphone手机,被收了10块钱“失物招领费”。学生在学校保卫处认领丢失物品,需缴纳5至20元不等的费用才能领走,这是四川传媒学院执行了多年的《关于给予检拾物品者适当奖励的试行办法》、《检拾物品奖励标准》中的规定。检拾普通手机奖励金额为10元,苹果、三星牌等千元以上贵重手机奖励金额为20元,充电宝、U盘为5元。奖励费用由失主与学校共同承担。此事引起了网友关注和讨论。

多数同学认为“失物认领费”可以收取,请你陈述理由。(7分)

选作题2:

上午11时许,原本安静、冷清的某小学门口渐渐热闹起来:几辆电动三轮车渐渐停靠,他们撑起太阳伞,打开煤气罐,把各类塑料杯装的饮料,以及麻辣串、小丸子等食品摆上摊位,准备迎接放学学生。他们是附近的流动摊贩,每天学生们放学的这半个小时,他们的生意最火爆。这一情景在中小校园周边并不少见。校园周边乱摆乱卖的问题一直备受关注,却一直屡禁不绝。

请就校园周边乱摆乱卖现象谈谈你的看法。(7分)

四、实践探究题(本大题有1小题,共12分)

19.

对太原市公共自行车与共享单车使用情况的调查



VS



2012年,太原市推出公共自行车服务,为市民出行提供了极大的便利,深受广大市民的欢迎。如今,一种姿态轻盈便捷的绿色单车又穿行在我市的街巷,成为今年初春一道靓丽的风景线,它就是共享单车。

是共享单车“圈粉无数”?还是大家对公共自行车仍情有独钟?带着这个问题,九年级(3)班的同学在“五一”小长假期间搞了一次研究性学习活动,请你也来参与,完成以下内容。

(1)完成本次研究性学习活动采用的方法有资料收集、对比分析、问卷调查、_____、_____等。(2分)

公共自行车与共享单车基本情况对比

	共享单车	公共自行车
收费标准 (一小时内)	30 分钟计费 0.3 元	前一小时内免费
办理程序	用智能手机下载 APP, 在线充值 298 元押金, 进行实名信息认证后, 就具备租骑共享单车的资格了	租车人在工作时间到市公交公司网点办理太原公交 IC 卡, 缴纳 200 元押金, 并预存 30 元以上租车费用后, 就可以租车了
取车方式	手机扫描车座下方的二维码, 开锁后即可骑行	使用公交 IC 卡, 刷卡取车
还车方式	无桩停放, 不用停放到指定区域, 只要不影响他人出行的公共区域都可以停放	需将公共自行车停放到有电子车桩的地方才能还车
投放数量	近 10000 辆	41000 辆

(2) 共享单车同公共自行车相比, 存在的优势有:

(2 分)

(3) 相比而言, 也存在着一一些影响人们选择共享单车的因素:

(2 分)

(4) 共享单车这一新事物有时也成了部分居民公德缺失的“放大镜”, 如乱停乱放、人为破坏等, 甚至有人将其用自家锁锁住、使“共享”变“私享”。

面对将“共享”变“私享”行为者, 你会如何与之沟通? (4 分)

(5) 不管是共享单车, 还是公共自行车, 我们都要为这样的出行方式点赞。这是因为: (2 分)